

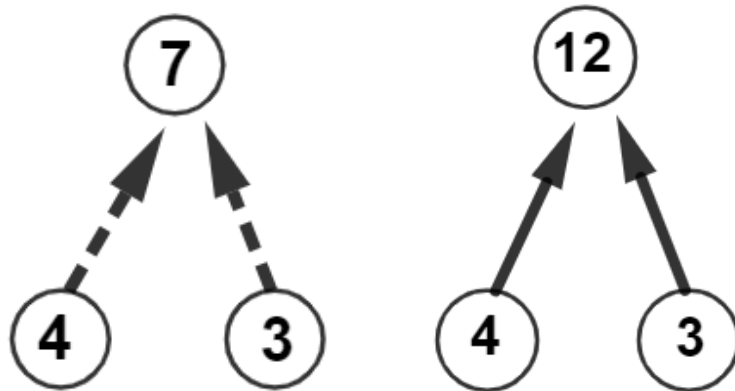
## תרגילי חיצים

בפעילות הזאת פעולות החיבור והכפל מסומנות באמצעות חיצים:

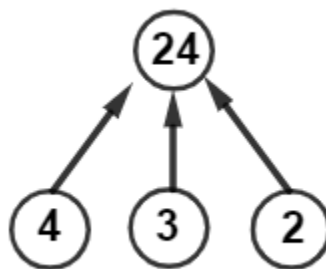
- חיצים מלאים מייצגים תרגיל כפל

- חיצים מקווקווים מייצגים תרגיל חיבור.

למשל, השרטוטים שלמטה מייצגים את התרגיל  $3 \cdot 4 = 12$  (מימין) ואת התרגיל  $3 + 4 = 7$  (משמאל).

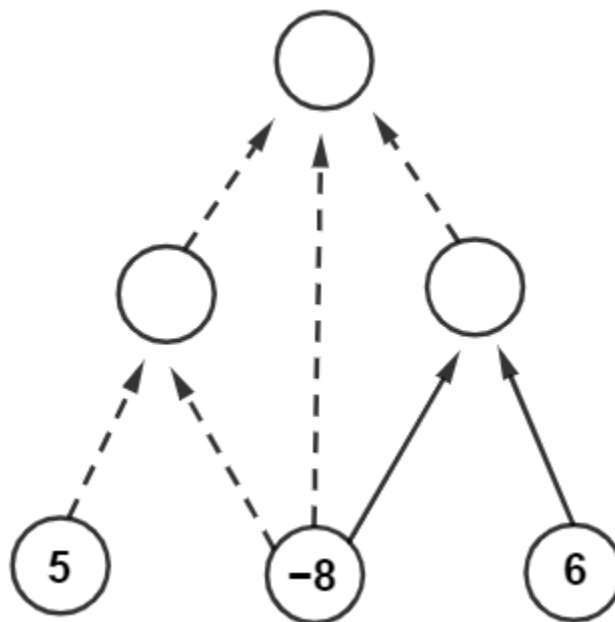


המשמעות של שלושה חיצים מאותו סוג מחוברים אל אותו עיגול היא ביצוע הפעולה בשרשרת – למשל, השרטוט למטה מייצג את התרגיל  $2 \cdot 3 \cdot 4 = 24$ .

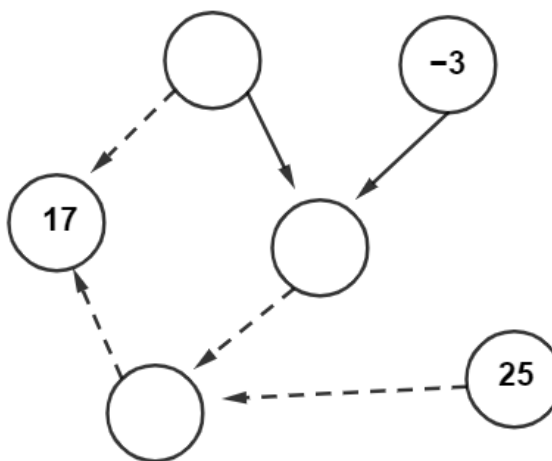


בכל אחד מן התרגילים הבאים, השלימו מספרים מתאימים בעיגולים ריקים. אם מצאתם יותר מפתרון אחד, העתיקו והשלימו את התרגיל כמספר הפתרונות שמצאתם. כל התשובות הן מספרים שלמים.

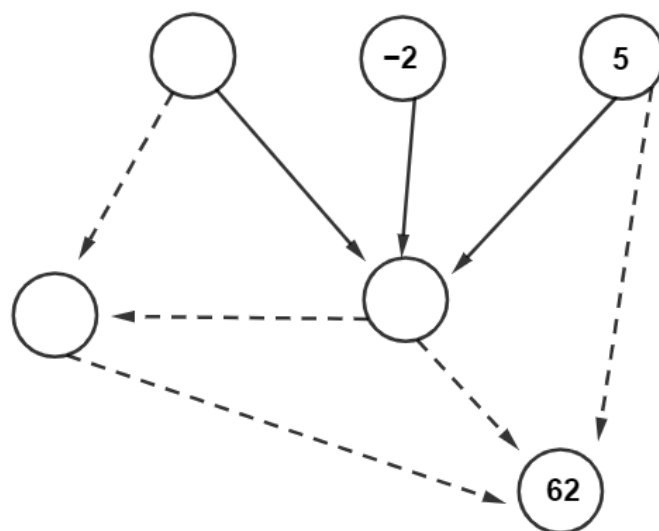
תרגיל 1



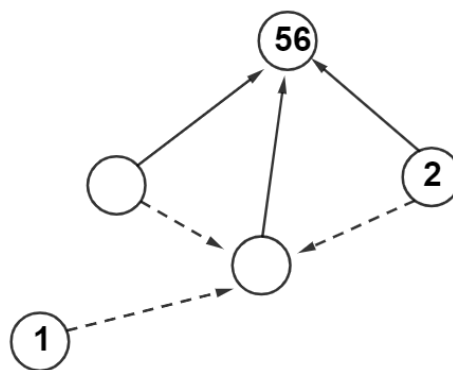
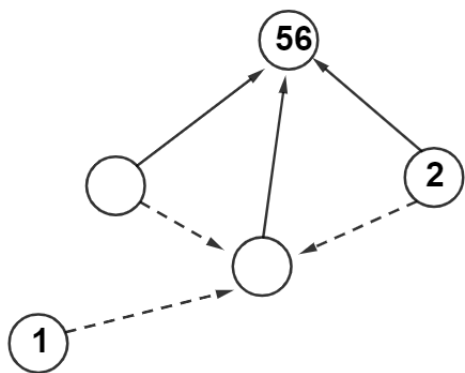
תרגיל 2



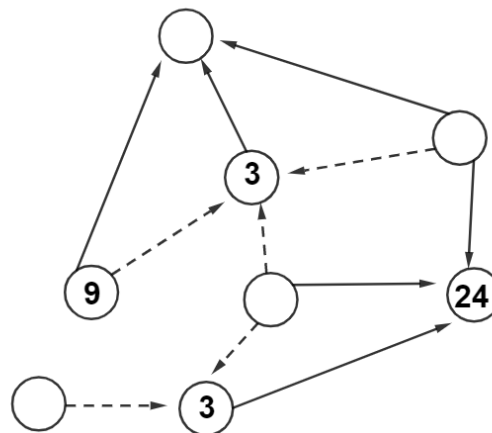
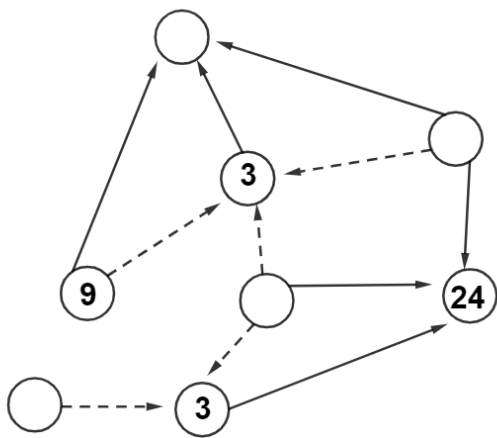
תרגיל 3



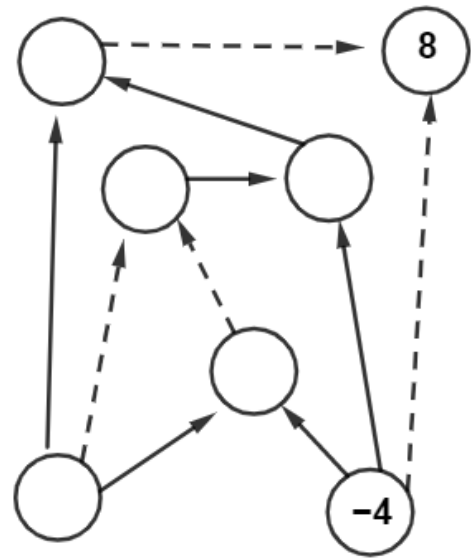
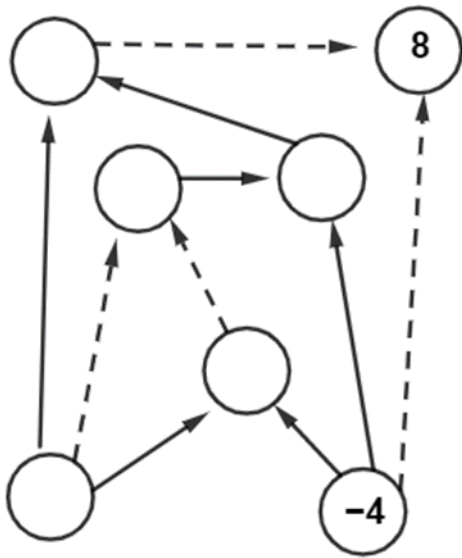
תרגיל 4 מצאו שני פתרונות.



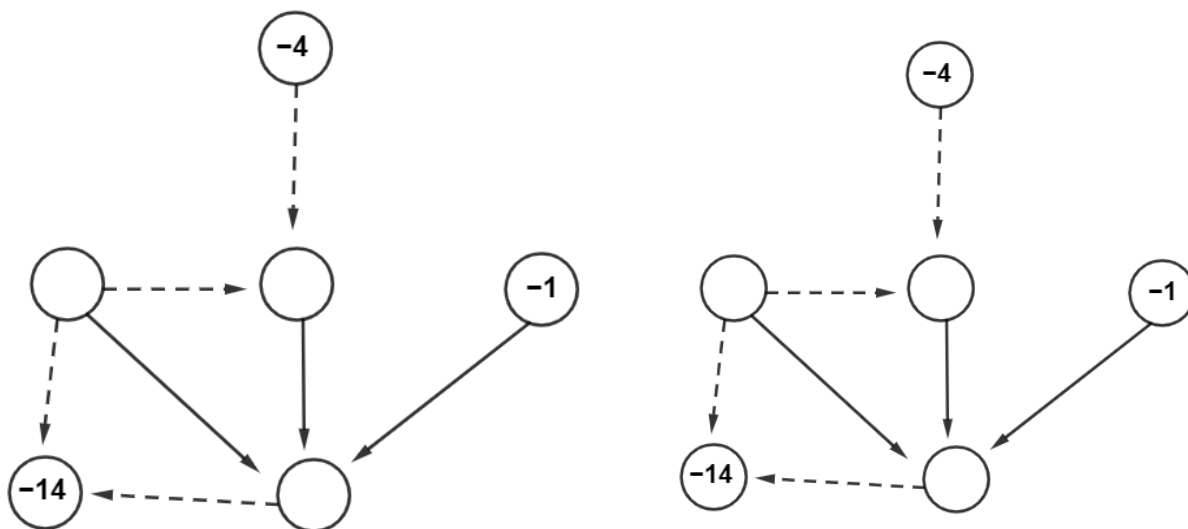
תרגיל 5 מצאו שני פתרונות.



תרגיל 6 מצאו שני פתרונות.



תרגיל 7 מצאו שני פתרונות.



תרגיל 8 כתבו תרגיל חיצים משלכם, ובקשו מחברים לפתור.